

かず



すいか組 2-2

なまえ

ひんと

1	2	3	4	5	6	7	8	9	10
---	---	---	---	---	---	---	---	---	----


1. いくつでしょう すうじを かきましょう。



2. イチゴケーキとチョコケーキは、どちらがおおいですか。おおいほうに○をかきましょう。



3. いちごが 4にあります。れおくんは、2こ。ゆめさんは なんこもらえますか。

 こ

4. 1から20までいみましょう。

いえたら、しかくに○をつけましょう。

だれかに きいて もらえたら、サインを してもらいましょう。